



Reken vlot uit.

$8 \times 40 = \dots\dots\dots$

$3 \times 60 = \dots\dots\dots$

$5 \times 90 = \dots\dots\dots$

$5 \times 30 = \dots\dots\dots$

$4 \times 70 = \dots\dots\dots$

$9 \times 60 = \dots\dots\dots$

$3 \times 100 = \dots\dots\dots$

$8 \times 70 = \dots\dots\dots$

$6 \times 20 = \dots\dots\dots$

$7 \times 30 = \dots\dots\dots$

$80 \times 5 = \dots\dots\dots$

$20 \times 8 = \dots\dots\dots$

$30 \times 9 = \dots\dots\dots$

$40 \times 3 = \dots\dots\dots$

$90 \times 9 = \dots\dots\dots$

$90 \times 2 = \dots\dots\dots$

$70 \times 7 = \dots\dots\dots$

$100 \times 6 = \dots\dots\dots$

$80 \times 8 = \dots\dots\dots$

$90 \times 8 = \dots\dots\dots$

$6 \times 50 = \dots\dots\dots$

$2 \times 40 = \dots\dots\dots$

$4 \times 50 = \dots\dots\dots$

$10 \times 70 = \dots\dots\dots$

$4 \times 40 = \dots\dots\dots$

$2 \times 70 = \dots\dots\dots$

$4 \times 60 = \dots\dots\dots$

$5 \times 50 = \dots\dots\dots$

$2 \times 50 = \dots\dots\dots$

$3 \times 80 = \dots\dots\dots$

$60 \times 6 = \dots\dots\dots$

$20 \times 2 = \dots\dots\dots$

$70 \times 6 = \dots\dots\dots$

$40 \times 4 = \dots\dots\dots$

$30 \times 3 = \dots\dots\dots$

$80 \times 6 = \dots\dots\dots$

$40 \times 9 = \dots\dots\dots$

$70 \times 5 = \dots\dots\dots$

$30 \times 2 = \dots\dots\dots$

$90 \times 7 = \dots\dots\dots$

1

Door welke getallen is het deelbaar?

Kruis aan. Er kunnen meer antwoorden goed zijn.

2045 is:

- deelbaar door 2.
- deelbaar door 10.
- deelbaar door 5.
- deelbaar door 4.

3760 is:

- deelbaar door 2.
- deelbaar door 10.
- deelbaar door 5.
- deelbaar door 4.

6052 is:

- deelbaar door 2.
- deelbaar door 10.
- deelbaar door 5.
- deelbaar door 4.

1770 is:

- deelbaar door 2.
- deelbaar door 10.
- deelbaar door 5.
- deelbaar door 4.

8250 is:

- deelbaar door 2.
- deelbaar door 3.
- deelbaar door 4.
- deelbaar door 5.

6336 is:

- deelbaar door 2.
- deelbaar door 3.
- deelbaar door 4.
- deelbaar door 5.

2640 is:

- deelbaar door 3.
- deelbaar door 8.
- deelbaar door 9.
- deelbaar door 10.

3168 is:

- deelbaar door 3.
- deelbaar door 8.
- deelbaar door 9.
- deelbaar door 10.

1328 is:

- deelbaar door 3.
- deelbaar door 4.
- deelbaar door 8.
- deelbaar door 9.

6255 is:

- deelbaar door 3.
- deelbaar door 4.
- deelbaar door 8.
- deelbaar door 9.

ga verder





2a

Hoeveel procent korting?

3 halen, 2 betalen

Elk tweede artikel voor de helft van de prijs.

korting:

korting:

2b

Reken uit. Laat zien hoe je rekent.

Wat is de beste aanbieding?



fles 1: 1,5 liter voor € 2,35

fles 2: 2 liter voor € 3,20

Laat zien hoe je rekent.

Hoeveel euro kosten 10 kaarsen?



antwoord:

.....

Je wilt 3 keer per week zwemmen.

Een maand lang.

Wat is het goedkoopst?

maandabonnement € 40,-

dagkaart € 3,40

3a

Wat staat er onder de vlek?

Weekend Praag
30% korting
van € 310,-
voor

Twee weken Venetië
 korting
van € 1550,-
voor € 1240,-

Week New York
25% korting
van
voor € 1200,-

ga verder ➔



3

Reken uit. Laat zien hoe je rekent.

In groep 8a zitten 20 kinderen.
Van hen zijn er 15 een meisje.
In groep 8b zitten 30 kinderen.
Van hen zijn er 24 een meisje.
In welke groep zitten naar verhouding meer meisjes?

antwoord:

Laat zien hoe je rekent.

In groep 8a zitten 24 kinderen.
Van hen zitten er 15 op een sportclub.
In groep 8b zitten 15 kinderen.
Van hen zitten er 9 op een sportclub.
In welke groep zitten naar verhouding meer kinderen op een sportclub?

antwoord:

Laat zien hoe je rekent.

4

Bereken de prijs.




APPELS	
prijs/kg	t.h.t.
1,500	24-02-2023
kg	prijs
1,500	€ 2,94




1 kg appels kost €

2,5 kg appels kost €



KAAS	
prijs/kg	t.h.t.
0,550	25-02-2023
kg	prijs
0,550	€ 7,15



1 kg kaas kost €

750 g kaas kost €



€ 6,60

1 liter olijfolie kost €

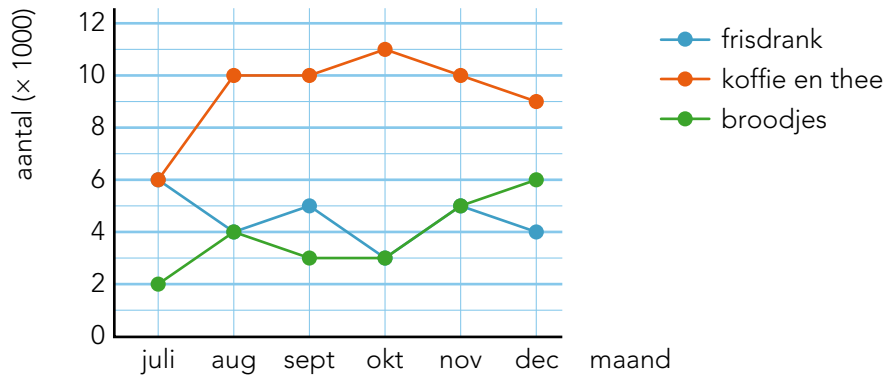
ga verder ➔



5a

Beantwoord de vragen.

verkochte artikelen



In welke maanden werd er evenveel frisdrank als broodjes verkocht?

In en

Hoeveel broodjes werden er in totaal verkocht in kwartaal 4?

Er werden broodjes verkocht.

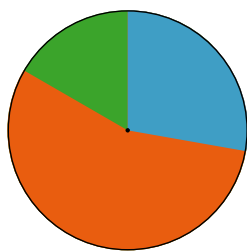
Hoeveel keer werd er in kwartaal 3 gemiddeld per maand frisdrank verkocht?

Er werd gemiddeld per maand keer frisdrank verkocht.

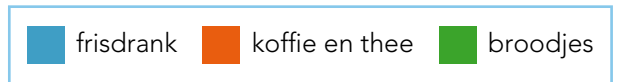
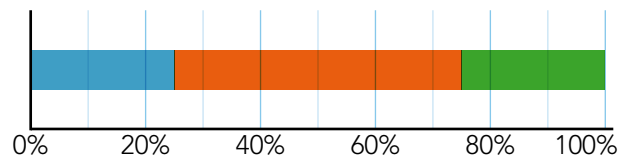
5b

Welke maand hoort erbij? Kijk bij opgave 5a.

verkochte artikelen in



verkochte artikelen in



Klaar!