

**Reken vlot uit.**

$69 - 36 = \dots\dots$

$82 - 36 = \dots\dots$

$66 - 28 = \dots\dots$

$56 - 15 = \dots\dots$

$54 - 27 = \dots\dots$

$48 - 25 = \dots\dots$

$84 - 41 = \dots\dots$

$77 - 34 = \dots\dots$

$98 - 49 = \dots\dots$

$73 - 45 = \dots\dots$

1**Reken uit met cijferen.**

$$\begin{array}{r} 56 \\ 14 \times \\ \hline \end{array}$$

$$\begin{array}{r} 76 \\ 44 \times \\ \hline \end{array}$$

$$\begin{array}{r} 56 \\ 33 \times \\ \hline \end{array}$$

$$\begin{array}{r} 67 \\ 38 \times \\ \hline \end{array}$$

$$\begin{array}{r} 74 \\ 36 \times \\ \hline \end{array}$$

2a**Reken uit met splitsen.**

$3 \times 11,5 = \dots\dots\dots$

$12,6 : 3 = \dots\dots\dots$

$4 \times 12,8 = \dots\dots\dots$

$44,1 : 7 = \dots\dots\dots$

$6 \times 14,5 = \dots\dots\dots$

$18,2 : 7 = \dots\dots\dots$

$5 \times 4,5 = \dots\dots\dots$

$40,35 : 5 = \dots\dots\dots$

$8 \times 3,25 = \dots\dots\dots$

$44,24 : 4 = \dots\dots\dots$

ga verder



2b

Wat is de oppervlakte?

Schat eerst, reken daarna zonder komma's (met de rekenmachine) en zet dan de komma.

kamer	lengte	breedte	schatting	som zonder komma's	oppervlakte
1	5,2 m	4,9 m	$5 \times 5 =$	$52 \times 49 =$
2	4,4 m	5,2 m
3	6,8 m	7,3 m
4	3,7 m	4,2 m
5	6,2 m	4,9 m

3a

Zoek steeds 4 kaartjes die bij elkaar horen. Geef ze dezelfde kleur.

$12\frac{1}{2}\%$ 0,333... 1 op de 20 $\frac{4}{5}$ 3 op de 4
 $\frac{3}{4}$ 80% 0,75 1 op de 3 $33\frac{1}{3}\%$ 1 op de 8
 0,05 $\frac{1}{3}$ 4 op de 5 $\frac{1}{20}$ $\frac{1}{8}$ 5%
 0,125 75% 0,8

ga verder ➔



3b

Reken uit.

Hoeveel procent korting?



antwoord:

Hoeveel procent korting?



antwoord:

Wat is de nieuwe prijs?



korting:

nieuwe prijs:

antwoord:

Hoeveel procent korting?



antwoord:

Hoeveel procent korting?



antwoord:

ga verder

**4a****Wat was de oude prijs?**

oude prijs	nieuwe prijs	korting
	€ 180,-	25%
	€ 280,-	30%
	€ 165,-	50%
	€ 63,-	10%
	€ 51,-	15%

4b**Bereken het totaal.**20% van de reisafstand is
120 km.

De totale reisafstand is

.....

60% van de container is 36 l.

De totale inhoud is

.....

15% van het spaargeld is
€ 39,-.

Het totale bedrag is

.....

Met 45% van de batterij doe
je 72 minuten.

Met de volle batterij doe je

.....

30% van de radio-uitzending
duurt 90 minuten.

De totale duur is

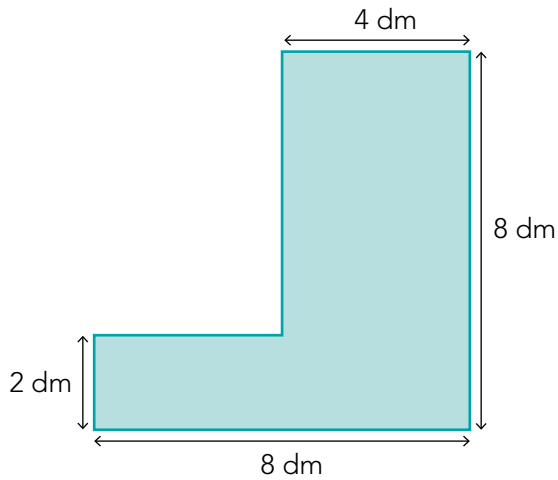
.....

ga verder



5a

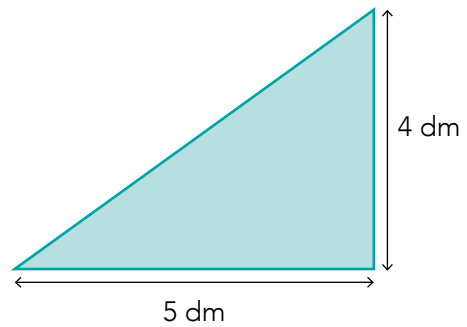
Bereken de oppervlakte.



De oppervlakte is dm².

Een rechthoekige kamer is 8 m lang en 3,5 m breed.

De oppervlakte is m².



De oppervlakte is dm².

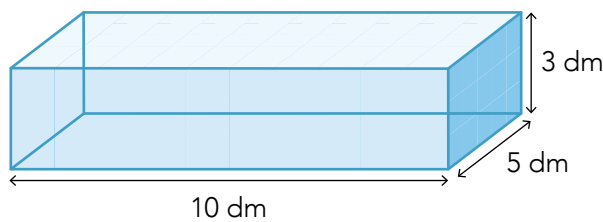
Het grasveld is 50 m lang en 400 m breed.

De oppervlakte is m².

Dat is ha.

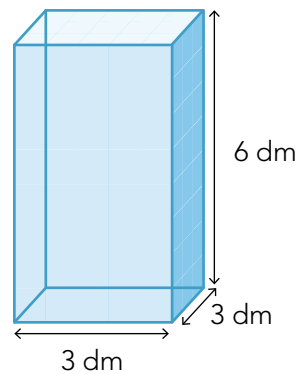
5b

Wat is de inhoud?



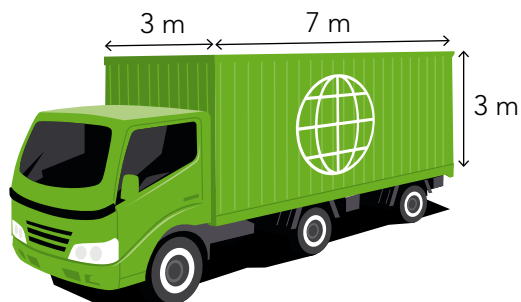
De inhoud is dm³.

Dat is l.



De inhoud is dm³.

Dat is l.



De inhoud van de vrachtauto is m³.

Klaar!