

**Reken uit.**

$5 \times 39 = \underline{195}$

$3 \times 82 = \underline{246}$

$16 \times 7 = \underline{112}$

$68 \times 2 = \underline{136}$

$9 \times 35 = \underline{315}$

$56 \times 8 = \underline{448}$

$6 \times 77 = \underline{462}$

$3 \times 45 = \underline{135}$

$38 \times 5 = \underline{190}$

$9 \times 27 = \underline{243}$

ga verder



1

Hoeveel is het ongeveer?

Welke som hoort erbij? Schrijf de som met afgeronde getallen in de denkwolk.



Janet koopt een ticket voor vak C en een sporttas. Ze had € 150,-. Hoeveel houdt zij ongeveer over?

Anna koopt 6 tickets voor vak A. Hoeveel moet zij ongeveer betalen?

$150 - 30 - 40 =$

$6 \times 20 =$

som: $150 - 28,50 - 39,90 \approx$

som: $6 \times 18,50 \approx$

- € 60,- € 70,- € 80,-

- € 120,- € 150,- € 200,-

6 dozen met voetbalsjaals wegen samen 23,712 kg. Hoeveel kg weegt 1 doos ongeveer?

Er zijn 356 sjaals op voorraad. Die zitten in 6 dozen. Hoeveel sjaals zitten er ongeveer in 1 doos?

$24 : 6 =$

$360 : 6 =$

som: $23.712 : 6 \approx$

som: $356 : 6 \approx$

- 0,4 kg 4 kg 40 kg

- 50 60 70

Het aantal toeschouwers in het voetbalstadion wordt bijgehouden:

	aantal toeschouwers:
vrijdag	986
zaterdag	2193
zondag	3092

Hoeveel toeschouwers zijn dat bij elkaar ongeveer?

$1000 + 2000 + 3000 =$

som: $986 + 2193 + 3092 \approx$

- 4000 5000 6000



2

Wat is de oppervlakte?

Schat eerst, reken daarna zonder komma's (met de rekenmachine) en plaats dan de komma.

kamer	lengte	breedte	schatting	som zonder komma's	oppervlakte
1	5,1 m	3,2 m	$5 \times 3 = 15$	$51 \times 32 = 1632$	16,32 m ²
2	5,9 m	4,2 m	$6 \times 4 = 24$	$59 \times 42 = 2478$	24,78 m ²
3	4,8 m	3,8 m	$5 \times 4 = 20$	$48 \times 38 = 1824$	18,24 m ²
4	7,1 m	5,4 m	$7 \times 5 = 35$	$71 \times 54 = 3834$	38,34 m ²
5	6,2 m	4,9 m	$6 \times 5 = 30$	$62 \times 49 = 3038$	30,38 m ²

3a

Reken om naar de andere maat.

24 kg = 24.000 g

6 g = 6000 mg

2,5 kg = 2500 g

0,475 kg = 475 g

3500 g = 3,500 kg

3b

Hoeveel kost het?



500 g appels kost € 0,70

2 kg appels kost € 2,80



500 g kaas kost € 6,30

2 kg kaas kost € 25,20



1 kg kip kost € 7,40

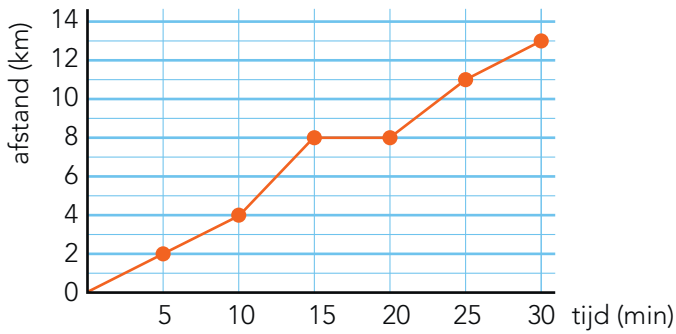
ga verder ➔



4

Bekijk de grafiek. Beantwoord de vragen.

de fietstocht van Kees



Hoe lang was de fietstocht? 13 km

Hoelang heeft Kees over de tocht gedaan? 30 minuten

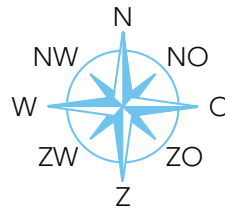
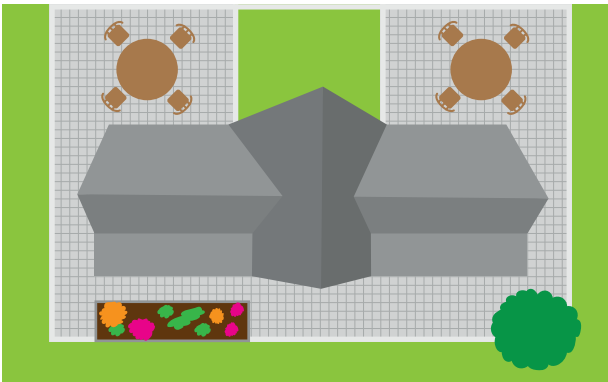
Na hoeveel minuten stopte Kees even onderweg? na 15 minuten

Hoeveel km had Kees gereden na 5 minuten? 2 km

Op welk stuk had Kees de hoogste snelheid? op het stuk tussen 10 en 15 minuten

5a

Vanuit welke richting zie je dit?



vanuit het westen



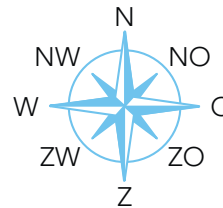
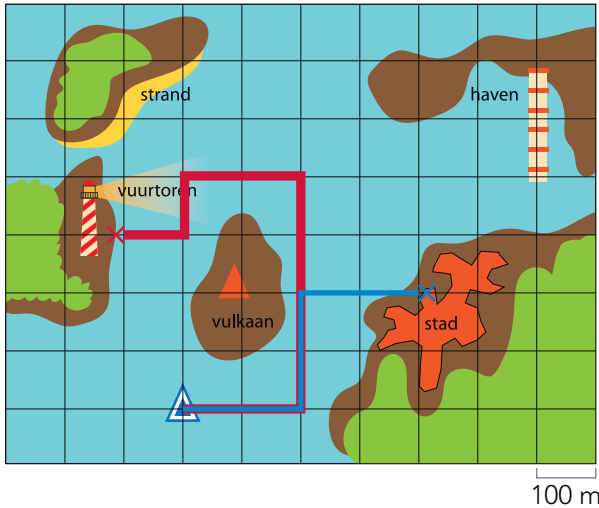
vanuit het noorden



5b

Teken de kortste route en schrijf op.

Teken met rood.



De kortste route naar de stad is 200 m oost, dan 200 m noord, en dan 200 m oost.

5c

Teken de route op de kaart en vul in.

Gebruik de kaart van opgave 5b.

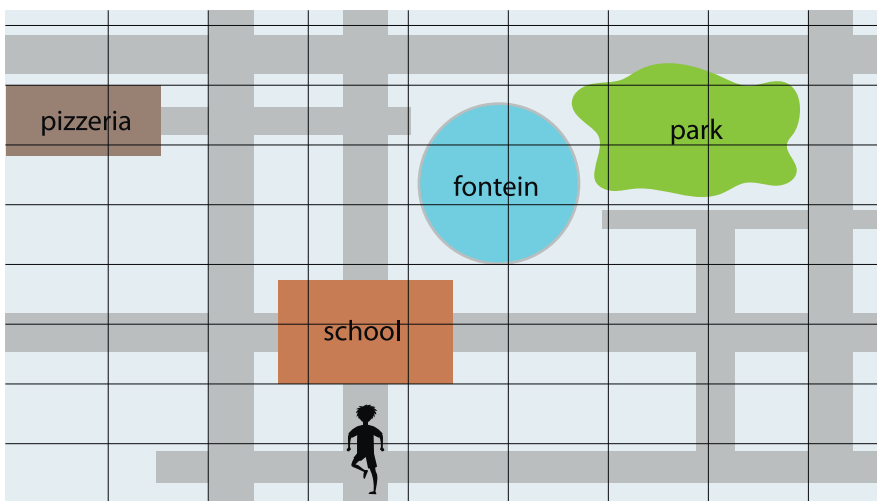
Teken met blauw.

De boot vaart 200 m oost, dan 400 m noord, dan 200 m west, dan 100 m zuid, en dan 100 m west.

De boot vaart naar de vuurtoren

5d

Waar loopt Mick naartoe? Schrijf op.



Mick

Mick gaat rechtsaf.

Hij neemt de eerste weg naar links.

Daarna neemt hij de tweede weg weer naar links.

Waar komt hij uit? bij de fontein

klaar!