

**1****Kruis de sommen aan waarbij aanvullen handig is.**

Reken alleen die sommen uit op de getallenlijn.

 $52 - 49 = \dots\dots$

 $65 - 33 = \dots\dots$

 $83 - 78 = \dots\dots$

 $42 - 38 = \dots\dots$

 $72 - 18 = \dots\dots$

 $33 - 26 = \dots\dots$

 $93 - 87 = \dots\dots$

2a**Reken uit. Je mag de getallenlijn gebruiken.**

 $24 + 38 = \dots\dots$

 $54 + 34 = \dots\dots$

ga verder 

**2b****Reken uit. Je mag de getallenlijn gebruiken.**

Kruis de sommen aan waarbij aanvullen handig is.

 $91 - 57 = \dots\dots$

$59 - 27 = \dots\dots$

 $93 - 89 = \dots\dots$

3a**Tel verder en terug.**

met sprongen van 1

				697	698				
--	--	--	--	-----	-----	--	--	--	--

met sprongen van 10

				775	785				
--	--	--	--	-----	-----	--	--	--	--

met sprongen van 100

				408	508				
--	--	--	--	-----	-----	--	--	--	--

3b**Van klein naar groot.**

700	900	100	400	800	→					
-----	-----	-----	-----	-----	---	--	--	--	--	--

300	600	500	1.000	200	→					
-----	-----	-----	-------	-----	---	--	--	--	--	--

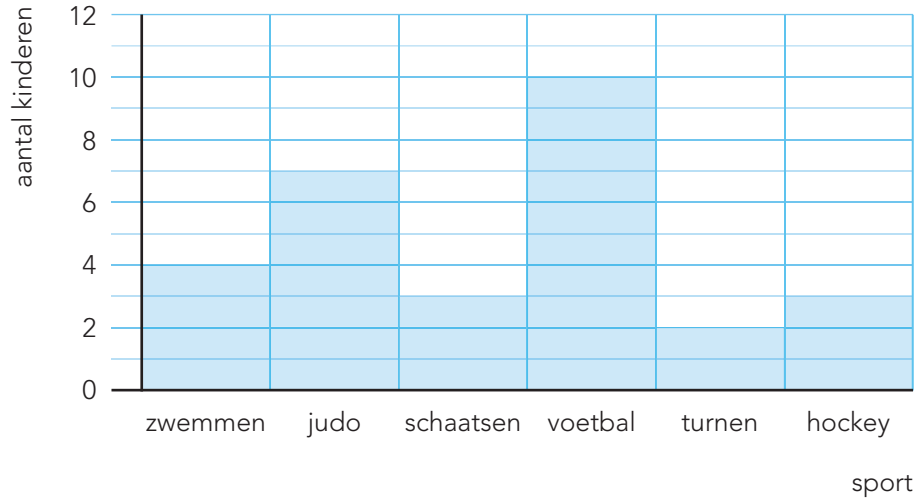
ga verder

4

Kijk naar het staafdiagram.

Beantwoord de vragen.

Welke sporten doet groep 5?



Hoeveel kinderen zitten op turnen? kinderen

Welke sport wordt door de meeste kinderen gedaan?

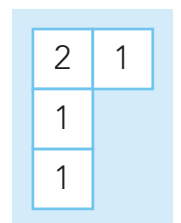
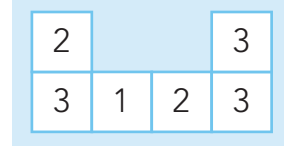
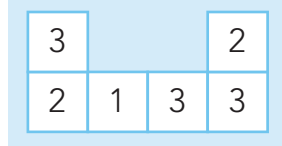
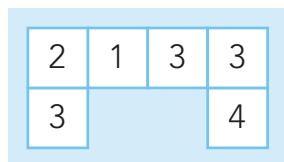
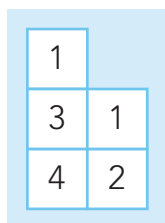
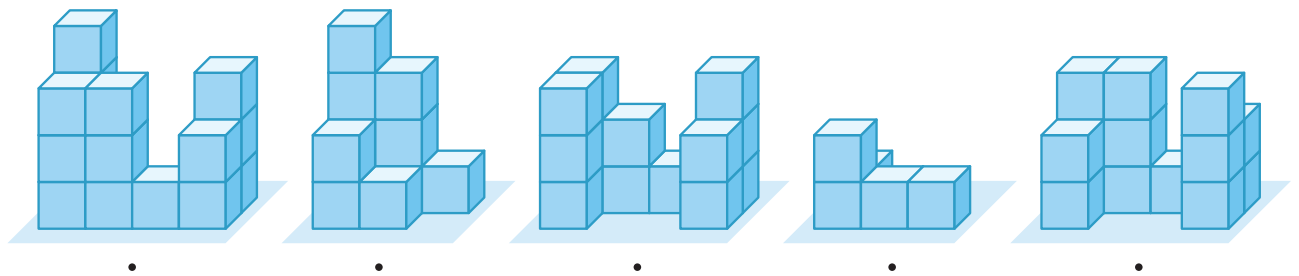
Op welke sporten zitten 3 kinderen? en

Hoeveel kinderen zitten op judo? kinderen

Welke sport doen 4 kinderen?

5

Welke plattegrond hoort erbij?



Klaar!