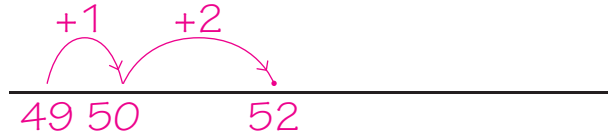




**1**

**Kruis de sommen aan waarbij aanvullen handig is.**

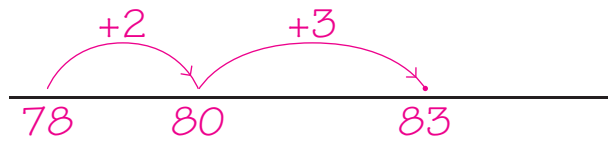
Reken alleen die sommen uit op de getallenlijn.



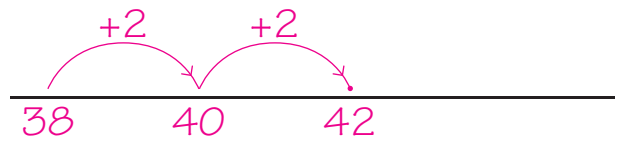
$52 - 49 = 3$  .....



$65 - 33 =$  .....



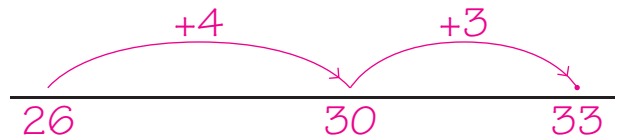
$83 - 78 = 5$  .....



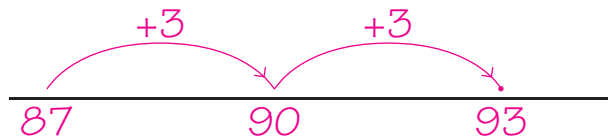
$42 - 38 = 4$  .....



$72 - 18 =$  .....



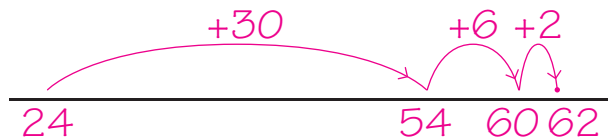
$33 - 26 = 7$  .....



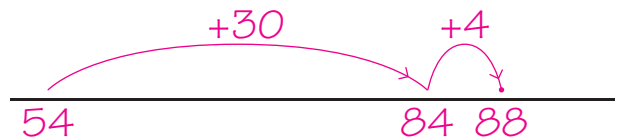
$93 - 87 = 6$  .....

**2a**

**Reken uit. Je mag de getallenlijn gebruiken.**



$24 + 38 = 62$  .....



$54 + 34 = 88$  .....

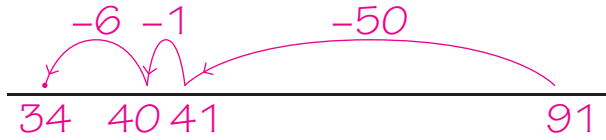
**ga verder** ➔



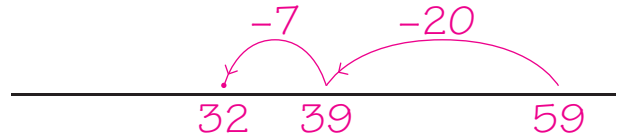
**2b**

**Reken uit. Je mag de getallenlijn gebruiken.**

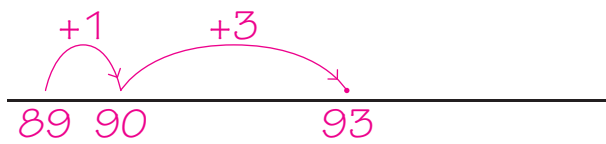
Kruis de sommen aan waarbij aanvullen handig is.



$91 - 57 = 34$



$59 - 27 = 32$



$93 - 89 = 4$

**3a**

**Tel verder en terug.**

met sprongen van 1

693 694 695 696 697 698 699 700 701 702

met sprongen van 10

735 745 755 765 775 785 795 805 815 825

met sprongen van 100

8 108 208 308 408 508 608 708 808 908

**3b**

**Van klein naar groot.**

700 900 100 400 800 → 100 400 700 800 900

300 600 500 1.000 200 → 200 300 500 600 1.000

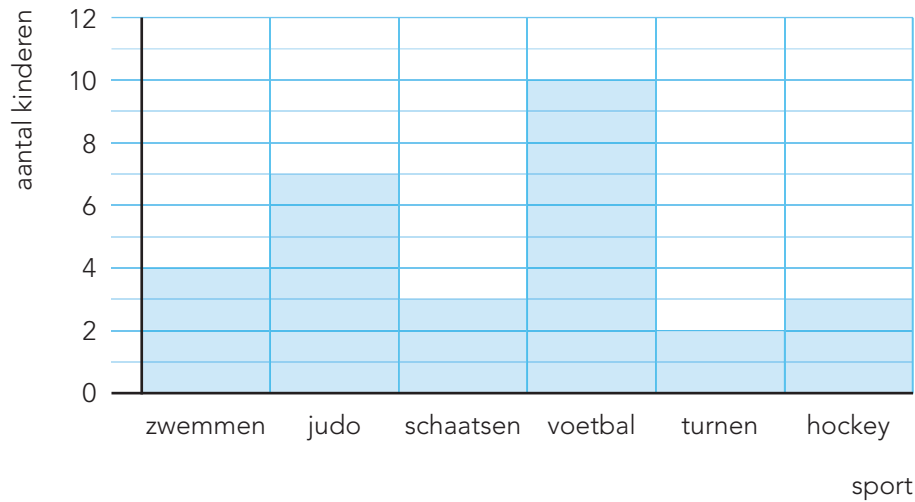
**ga verder** ➔

**4**

**Kijk naar het staafdiagram.**

Beantwoord de vragen.

**Welke sporten doet groep 5?**



Hoeveel kinderen zitten op turnen? 2 kinderen

Welke sport wordt door de meeste kinderen gedaan? voetbal

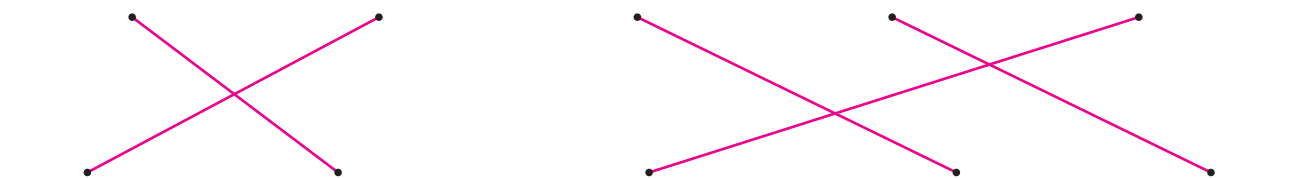
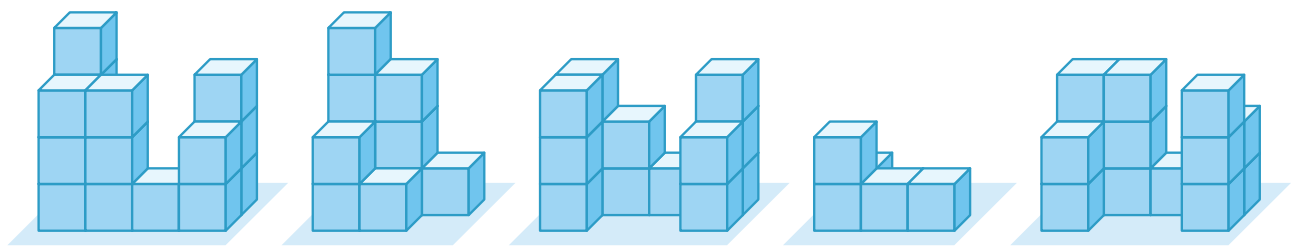
Op welke sporten zitten 3 kinderen? schaatsen en hockey

Hoeveel kinderen zitten op judo? 7 kinderen

Welke sport doen 4 kinderen? zwemmen

**5**

**Welke plattegrond hoort erbij?**



1	
3	1
4	2

2	1	3	3
3			4

3			2
2	1	3	3

2			3
3	1	2	3

2	1
1	
1	

**Klaar!**