



**Reken uit.**

15 : 2 = .....

34 : 4 = .....

20 : 3 = .....

38 : 7 = .....

17 : 5 = .....

86 : 9 = .....

76 : 8 = .....

22 : 3 = .....

102 : 10 = .....

32 : 6 = .....

52 : 8 = .....

96 : 10 = .....

39 : 6 = .....

57 : 9 = .....

22 : 5 = .....



**Reken uit met cijferen.**

Kruis de sommen aan die je eerst omkeert.

Laat zien hoe je rekent.

13 × 56 =

73 × 14 =

15 × 75 =

68 × 16 =

12 × 94 =

som 1

som 2

som 3

som 4

som 5



**Reken uit met cijferen.**





$$\begin{array}{r} 65 \\ 33 \\ \hline \end{array} \times$$

$$\begin{array}{r} 56 \\ 44 \\ \hline \end{array} \times$$

$$\begin{array}{r} 57 \\ 26 \\ \hline \end{array} \times$$

$$\begin{array}{r} 83 \\ 35 \\ \hline \end{array} \times$$

$$\begin{array}{r} 34 \\ 59 \\ \hline \end{array} \times$$

**3a****Kleur het percentage.****3b****Reken uit. Je mag een strook tekenen.**

50% van 30 appels is groen.

Dat is ..... deel.

Dat zijn ..... appels.

75% van 80 kinderen zit op voetbal.

Dat is ..... deel.

Dat zijn ..... kinderen.

 $\frac{1}{10}$  deel van 20 appels is rot.

Dat is ..... %.

Dat zijn ..... appels.

 $\frac{1}{4}$  deel van 60 kinderen fietst.

Dat is ..... %.

Dat zijn ..... kinderen.

25% van 40 ijsjes is rood.

Dat is ..... deel.

Dat zijn ..... rode ijsjes.

20% van 50 kinderen draagt een bril.

Dat is ..... deel.

Dat zijn ..... kinderen.



4a

**Hoeveel toeristen zijn dat? Reken uit met een verhoudingstabel.**

Er verblijven 480 toeristen in Hotel Zeezicht.

5 van de 8 toeristen komen uit Duitsland.

antwoord: .....

3 op de 4 toeristen komen met de auto.

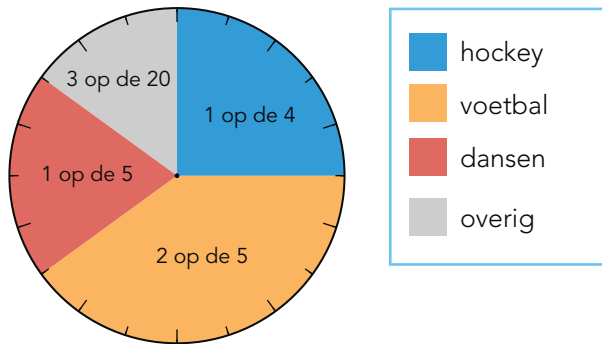
antwoord: .....

4b

**Hoeveel kinderen zijn dat? Je mag een verhoudingstabel gebruiken.**

Laat zien hoe je rekent.

leukste sport van 360 kinderen



Hoeveel kinderen vinden hockey het leukst?

antwoord: .....

Hoeveel kinderen vinden voetbal het leukst?

antwoord: .....

Hoeveel kinderen vinden dansen het leukst?

antwoord: .....

**5a****Reken om naar de andere maat.**

$8,2 \text{ km} = \dots\dots\dots \text{ m}$

$3,65 \text{ m} = \dots\dots\dots \text{ mm}$

$2,3 \text{ hm} = \dots\dots\dots \text{ m}$

$1485 \text{ m} = \dots\dots\dots \text{ km}$

$82 \text{ cm} = \dots\dots\dots \text{ m}$

**5b****Reken de lengte uit.**

$3,1 \text{ km} + 4150 \text{ m} = \dots\dots\dots \text{ m}$

$1,2 \text{ m} + 6 \text{ dm} = \dots\dots\dots \text{ cm}$

$3,5 \text{ dm} + 24 \text{ cm} = \dots\dots\dots \text{ cm}$

$7,5 \text{ km} + 1100 \text{ m} = \dots\dots\dots \text{ m}$

$4,5 \text{ hm} + 30 \text{ m} = \dots\dots\dots \text{ m}$