




Reken uit.

Denk aan de kleine som.

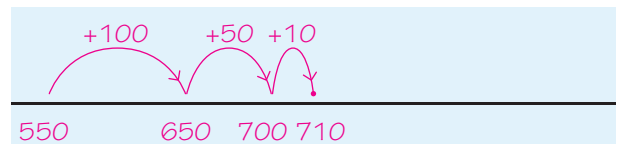
$30 \times 4 = 120$	$20 \times 9 = 180$	$6 \times 30 = 180$	$10 \times 30 = 300$	$40 \times 3 = 120$
$5 \times 30 = 150$	$7 \times 30 = 210$	$20 \times 6 = 120$	$8 \times 40 = 320$	$4 \times 50 = 200$
$6 \times 30 = 180$	$8 \times 30 = 240$	$50 \times 9 = 450$	$7 \times 50 = 350$	$5 \times 50 = 250$
$2 \times 20 = 40$	$7 \times 20 = 140$	$40 \times 3 = 120$	$8 \times 50 = 400$	$6 \times 50 = 300$
$20 \times 6 = 120$	$90 \times 3 = 270$	$4 \times 60 = 240$	$80 \times 7 = 560$	$60 \times 3 = 180$
$4 \times 20 = 80$	$4 \times 40 = 160$	$10 \times 20 = 200$	$70 \times 2 = 140$	$2 \times 40 = 80$
$20 \times 5 = 100$	$5 \times 40 = 200$	$40 \times 10 = 400$	$5 \times 80 = 400$	$20 \times 8 = 160$
$6 \times 20 = 120$	$40 \times 2 = 80$	$30 \times 9 = 270$	$5 \times 90 = 450$	$40 \times 5 = 200$
$2 \times 30 = 60$	$6 \times 40 = 240$	$7 \times 40 = 280$	$10 \times 50 = 500$	$5 \times 60 = 300$
$30 \times 8 = 240$	$6 \times 50 = 300$	$7 \times 50 = 350$	$20 \times 5 = 100$	$5 \times 70 = 350$

1

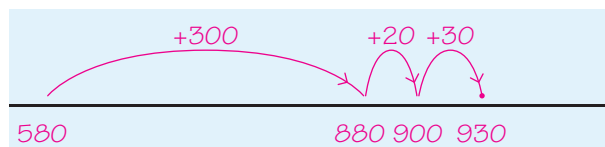
Reken uit op de getallenlijn.




$470 + 80 = 550$



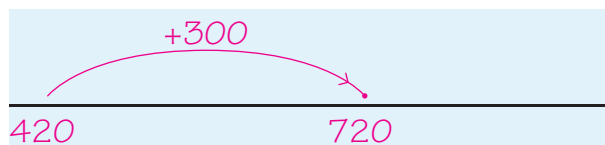
$550 + 160 = 710$



$580 + 350 = 930$



$350 + 70 = 420$




$420 + 300 = 720$

ga verder ➔




2

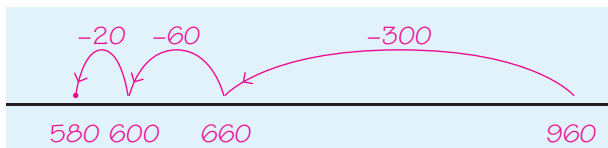
Reken uit op de getallenlijn.




$$730 - 400 = \underline{330}$$



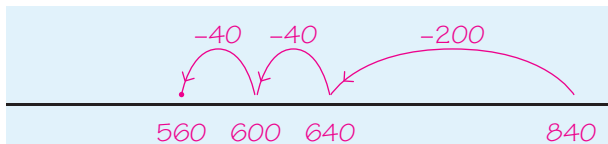
$$510 - 70 = \underline{440}$$



$$960 - 380 = \underline{580}$$



$$620 - 40 = \underline{580}$$



$$840 - 280 = \underline{560}$$

3

Reken uit.

$$\underline{30 + 12}$$

$$3 \times 14 = \underline{42}$$

$$\begin{array}{r} 10 \quad 4 \\ \hline \end{array}$$

$$\underline{70 + 28}$$

$$7 \times 14 = \underline{98}$$

$$\begin{array}{r} 10 \quad 4 \\ \hline \end{array}$$

$$\underline{70 + 14}$$

$$7 \times 12 = \underline{84}$$

$$\begin{array}{r} 10 \quad 2 \\ \hline \end{array}$$

$$\underline{30 + 27}$$

$$3 \times 19 = \underline{57}$$

$$\begin{array}{r} 10 \quad 9 \\ \hline \end{array}$$

$$\underline{30 + 18}$$

$$3 \times 16 = \underline{48}$$

$$\begin{array}{r} 10 \quad 6 \\ \hline \end{array}$$

$$\underline{60 + 12}$$

$$6 \times 12 = \underline{72}$$

$$\begin{array}{r} 10 \quad 2 \\ \hline \end{array}$$

$$\underline{30 + 15}$$

$$3 \times 15 = \underline{45}$$

$$\begin{array}{r} 10 \quad 5 \\ \hline \end{array}$$

$$\underline{50 + 15}$$

$$5 \times 13 = \underline{65}$$

$$\begin{array}{r} 10 \quad 3 \\ \hline \end{array}$$

$$\underline{40 + 28}$$

$$4 \times 17 = \underline{68}$$

$$\begin{array}{r} 10 \quad 7 \\ \hline \end{array}$$

$$\underline{40 + 24}$$

$$4 \times 16 = \underline{64}$$

$$\begin{array}{r} 10 \quad 6 \\ \hline \end{array}$$

$$\underline{50 + 45}$$

$$5 \times 19 = \underline{95}$$

$$\begin{array}{r} 10 \quad 9 \\ \hline \end{array}$$


ga verder



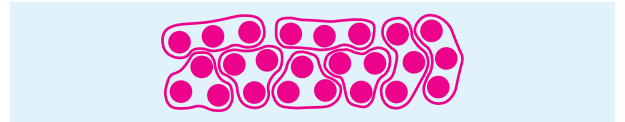
**4a****Teken en reken uit.**

Schrijf de hulpsom op.

Mira koopt 20 broodjes. Ze doet 4 broodjes in een zakje. Hoeveel zakjes kan Mira vullen?

som: $20 : 4 = 5$ hulpsom: $5 \times 4 = 20$ antwoord: 5 zakjes

Er zijn 24 tennisballen. In een blik kunnen 3 tennisballen. Hoeveel blikken kun je vullen?

som: $24 : 3 = 8$ hulpsom: $8 \times 3 = 24$ antwoord: 8 blikken**4b****Welke som hoort erbij?**

Reken uit.

Schrijf de hulpsom op.

De kippen hebben 30 eieren gelegd. Er gaan 6 eieren in een doos. Hoeveel dozen zijn er nodig?

som: $30 : 6 = 5$ hulpsom: $5 \times 6 = 30$ antwoord: 5 dozen

Tess heeft 28 euro. Een boek kost 7 euro. Hoeveel boeken kan Tess kopen?

som: $28 : 7 = 4$ hulpsom: $4 \times 7 = 28$ antwoord: 4 boeken

Remi heeft 45 euro. Een kaartje voor het zwembad kost 5 euro. Hoe vaak kan Remi naar het zwembad?

som: $45 : 5 = 9$ hulpsom: $9 \times 5 = 45$ antwoord: 9 keer

ga verder

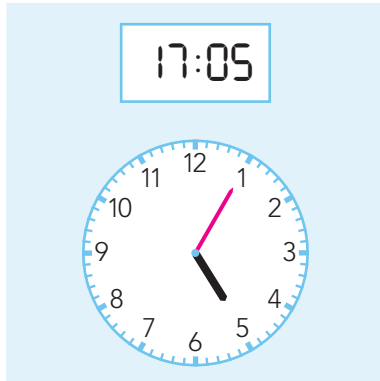


**5****Hoe laat is het?**

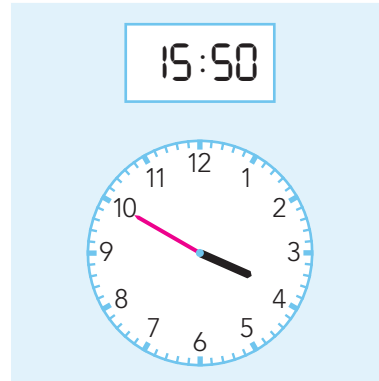
Tekende grote wijzer.

Vul de tijd in.

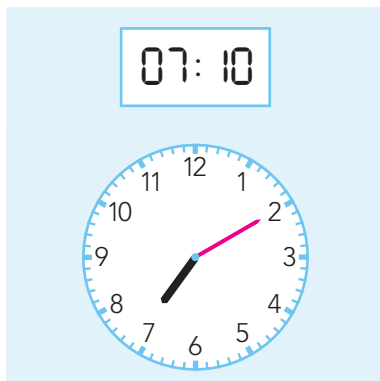
Zet een rondje om voor of over.



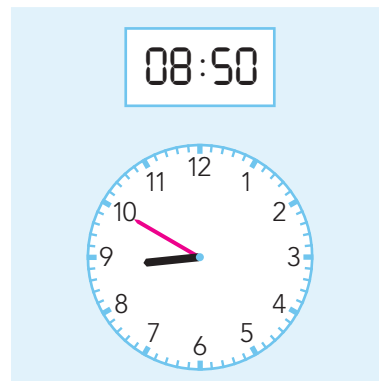
Het is ... 5 voor / over 5 ...




Het is ... 10 voor / over 4 ...



Het is ... 10 voor / over 7 ...



Het is ... 10 voor / over 9 ...



Het is ... 5 voor / over 8 ...

Klaar!